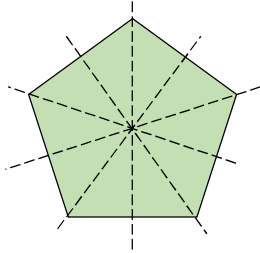


Сурагчийн нэр: .....

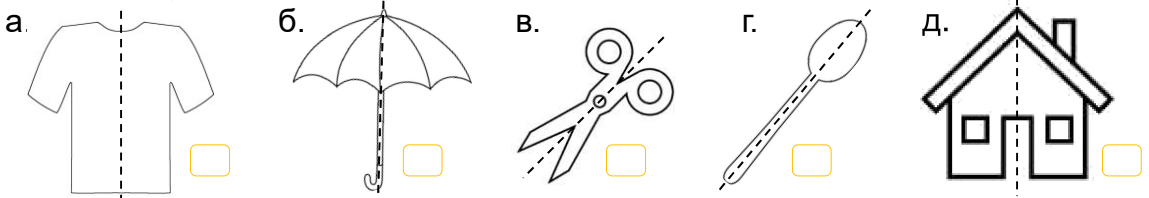
Эхэлсэн: ..... он ..... сар ..... өдөр

- 1 Хайчлах хэсгээс 1 дэх дүрсүүдийг хайчлаарай.  
Хайчилсан дүрсүүдээ нугалж үзэн тэгш хэмтэй эсэхийг тодорхойлоорой.  
Дүрсүүдээ наагаад, тэгш хэмтэй дүрсийг  -ээр тэмдэглээрэй.  
а.  б.  в.

- 2 Хайчлах хэсгээс 2 дахь дүрсүүдийг хайчлаарай.  
Хайчилсан дүрсүүдээ тэгш хэмийн тэнхлэгүүдийн дагуу нугалаарай.  
Тэгш хэмийн хэдэн тэнхлэгтэй байна вэ? Дүрсүүдээ наагаарай.  
а. 5 тэнхлэгтэй б. .... тэнхлэгтэй в. .... тэнхлэгтэй г. .... тэнхлэгтэй



- 3 Тасархай зураас тэгш хэмийн тэнхлэг мөн бол  -ээр тэмдэглээрэй.

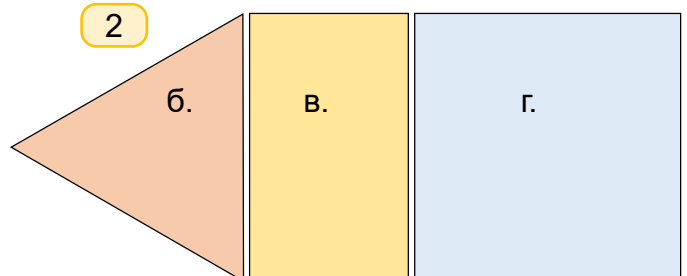
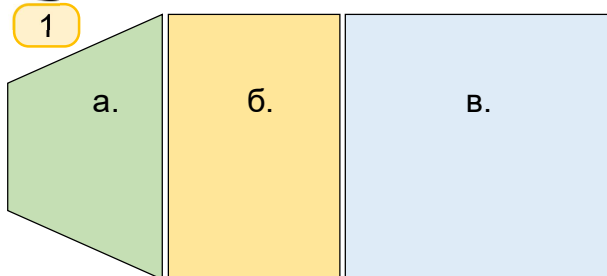


- 4 Зургийг ажиглан, тэгш хэмтэй юмсыг  -ээр тэмдэглээрэй.



Дууссан: .....сар .....өдөр

Даалгавар	1	2	3	4
Өөрийн үнэлгээ				

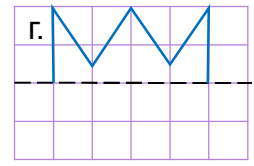
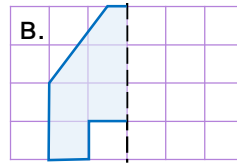
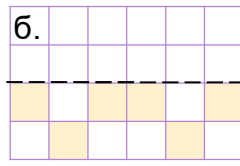
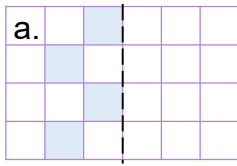




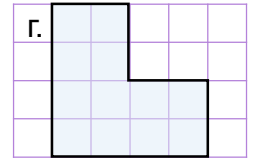
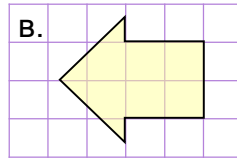
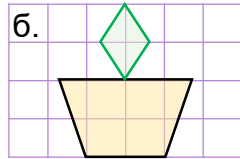

Сурагчийн нэр: .....

Эхэлсэн: ..... он ..... сар ..... өдөр

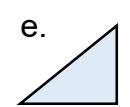
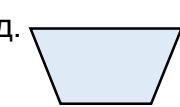
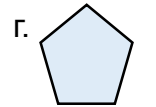
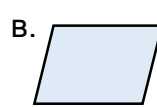
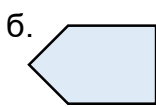
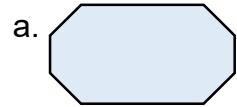
1 Тасархай шугамын хувьд тэгш хэмтэй байхаар гүйцээж зураарай.




2 Дүрсүүдийн тэгш хэмийн тэнхлэгийг зураарай.



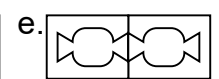
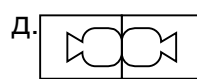
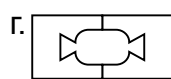
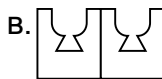
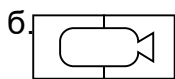
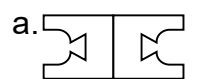
3 Тэгш хэмтэй дүрсүүдийг олж, тэгш хэмийн бүх тэнхлэгийг зураарай.



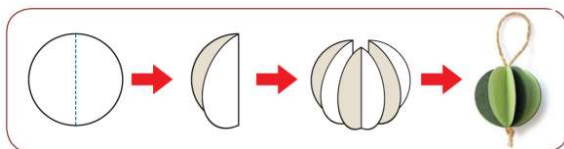
4 Тэгш хэмтэй хоёр гурвалжин зураарай. Тэгш хэмийн тэнхлэгийг зураарай.



5\* Охин цаасыг хагаслан нугалж, хажуугийн зурагт харуулсан шиг дүрс хайчлав. Цаасаа дэлгэхэд үүсэх дүрс аль нь вэ?




6 Тэгш хэмтэй дүрсүүдээр чимэглэл хийж, наагаарай.



Эх сурвалж: Дүрслэх урлаг, технологи III, 2020

7 Тэгш хэмтэй дүрс зурж, зохиомж хийгээд, наагаарай.



Эх сурвалж: <http://krokotak.com/>

Дууссан: .....сар .....өдөр



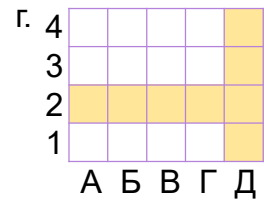
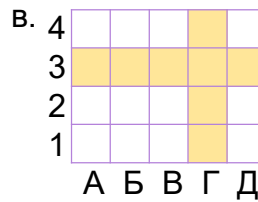
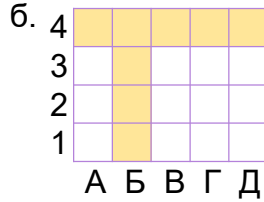
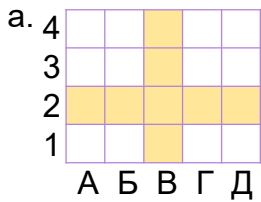
Даалгавар	1	2	3	4	5	6	7
Өөрийн үнэлгээ	😊	😊	😊	😊	😊	😊	😊



Сурагчийн нэр: .....

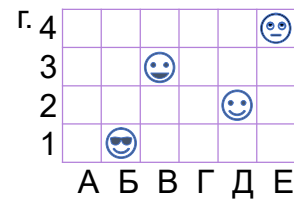
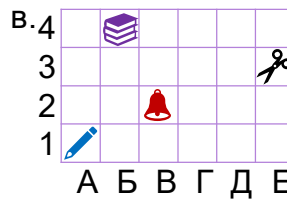
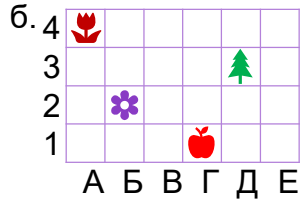
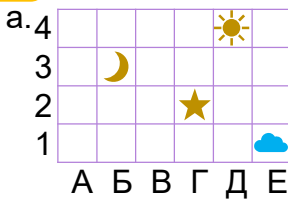
Эхэлсэн: ..... он ..... сар ..... өдөр

1 Хүснэгтийн ямар багана, хэд дэх мөрийг будсан байгааг бичээрэй.



В багана, 2 дахь мөр

2 Юмсын байршлыг бичээрэй.



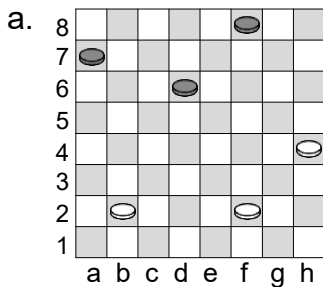
☀  ☾   
★  ☁  Е1

🌸  🌲   
🌺  🍏

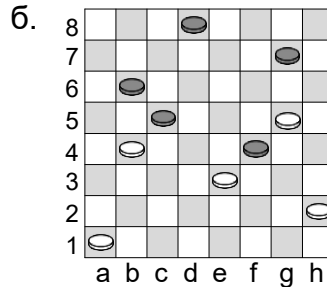
✍  📚   
🔔  ✂

😊  😊   
😊  😊

3 Хөлөг дээрх даамнуудын байршлыг бичээрэй.

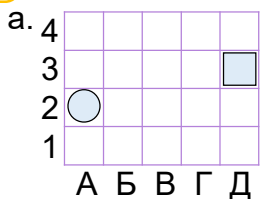


♟ \_\_\_\_\_  
\_\_\_\_\_

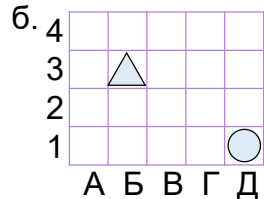


♟ \_\_\_\_\_  
\_\_\_\_\_

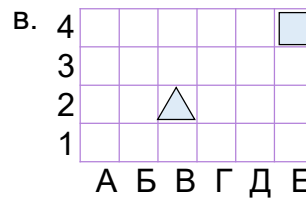
4 Дүрс бүрийн байршлыг бичээрэй.



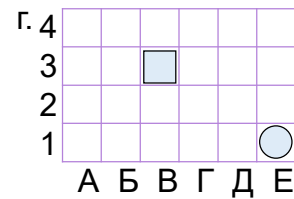
○  ■



○  △

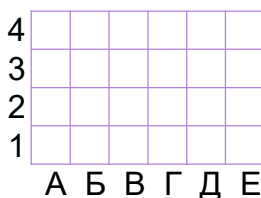


△  ■

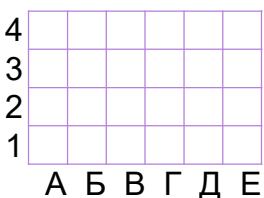


5 Өгсөн байршлууд дахь нүдийг будаарай.

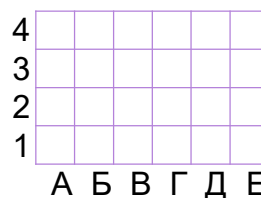
а. В2, А1, Д3



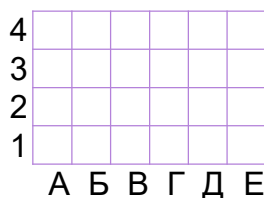
б. В2, В4, Б3, Г3



в. В4, Д4, Г3, В2, Д2



г. А2, В1, Г4, Е3



Дууссан: .....сар .....өдөр



Даалгавар	1	2	3	4	5
Өөрийн үнэлгээ	😊	😊	😊	😊	😊



Сурагчийн нэр: .....

Эхэлсэн: ..... он ..... сар ..... өдөр

1 Юмсын анхны байршил болон шилжүүлсний дараах байршлыг бичээрэй.

а.

А Б В Г Д

б.

А Б В Г Д

в.

А Б В Г Д

г.

А Б В Г Д

2 Юмсыг аль чиглэлд, хэдэн нүдээр шилжүүлж байгааг бичээрэй.

(Хэрэглэх үгс: баруун гар тийш, зүүн гар тийш, дээш, доош, 1 нүд, 2 нүд, 3 нүд)

а.

А Б В Г Д

б.

А Б В Г Д

в.

А Б В Г Д

г.

А Б В Г Д

Дээш 3 нүд

3 Дүрсийг шилжүүлэн зурж, шилжүүлсний дараах байршлыг бичээрэй.

а. Дээш 1 нүд

б. Доош 3 нүд

в. Зүүн гар тийш 2 нүд

г. Баруун гар тийш 2 нүд

А Б В Г Д

А Б В Г Д

А Б В Г Д

А Б В Г Д

4 Дүрсийг заасан байршилд шилжүүлэх зааврыг бичээрэй.

а. А3

б. В3

в. Б1

г. Д1

А Б В Г Д

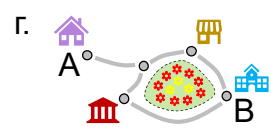
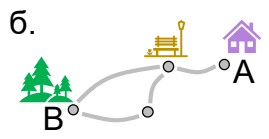
А Б В Г Д

А Б В Г Д

А Б В Г Д

баруун гар тийш  
1 нүд

5 А-аас В-д хүрэх дөт замыг сонгон тэмдэглээрэй.



Дууссан: .....сар .....өдөр



Даалгавар	1	2	3	4	5
Өөрийн үнэлгээ	<input type="text"/>	<input type="text"/>	<input type="text"/>	<input type="text"/>	<input type="text"/>